

Г
е
о
г
р
а
ф
и
ч
е
с
к
а
я



В
и
к
т
о
р
и
н
а

7
к
л
а
с
с

1. Какая часть света омывается четырьмя океанами?



2. Если провести ось через центр земли в точке с координатой 10° с.ш. 20° в.д. какова будет координата при её выходе?



3. Установите соответствие между параллелью и зенитальным положением солнца


1. 22.12
2. 21.03
3. 22.06
4. 23.09

- A. Северный тропик
- B. Южный тропик
- C. Экватор

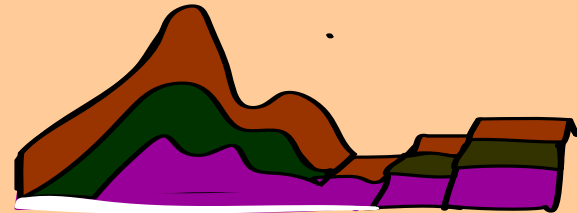


4. Укажите типы тектонических структур

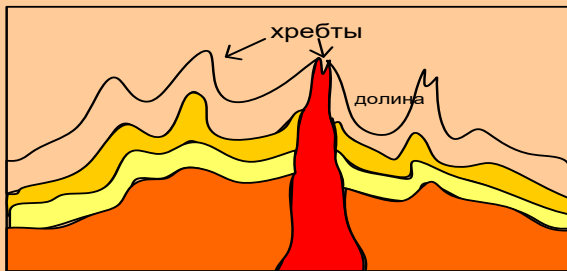
1.



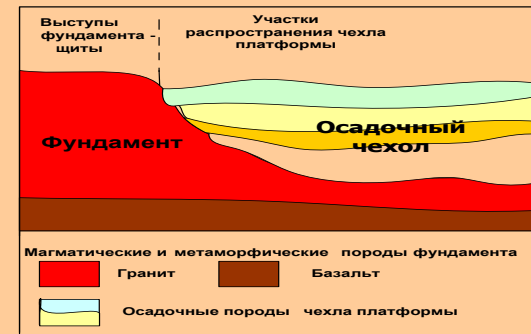
2.





3.



4.



5. Кто и когда из европейцев впервые побывал в Америке?



6. Москва – порт пяти морей.
Перечислите эти моря. Какие реки и каналы соединяют моря?

